
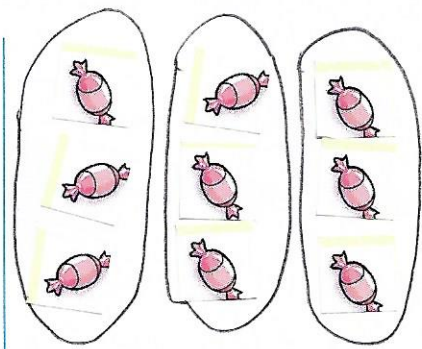


Colle des bonbons et entoure-les pour représenter la multiplication, puis écris le résultat.

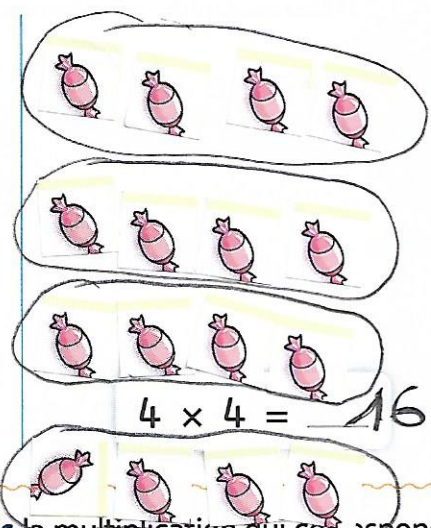
Place les bonbons à la colle et entoure-les.



$$2 \times 2 = 4$$



$$3 \times 3 = 9$$



$$4 \times 4 = 16$$

Dessine les sommes indiquées avec des pièces de 2€ puis écris la multiplication qui correspond.

• 20 € :



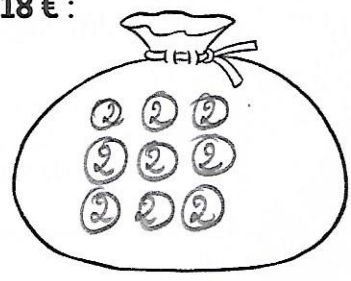
$$10 \times 2 = 20$$

• 14 € :



$$7 \times 2 = 14$$

• 18 € :



$$9 \times 2 = 18$$

Approfondis

Tu peux vérifier en dessinant les opérations au brouillon.



Calcule.

$2 \times 3 = 6$	$3 \times 2 = 6$	$2 \times 9 = 18$	$9 \times 2 = 18$
$4 \times 1 = 4$	$1 \times 4 = 4$	$2 \times 7 = 14$	$7 \times 2 = 14$
$5 \times 2 = 10$	$2 \times 8 = 16$	$0 \times 5 = 0$	$5 \times 1 = 5$

Apprends les tables



1 fois 2... 2.
N'oublie pas d'apprendre ta table par cœur !

Complète la table de 2.

$1 \times 2 = 2$	$2 \times 2 = 4$	$3 \times 2 = 6$	$4 \times 2 = 8$	$5 \times 2 = 10$
$6 \times 2 = 12$	$7 \times 2 = 14$	$8 \times 2 = 16$	$9 \times 2 = 18$	$10 \times 2 = 20$